
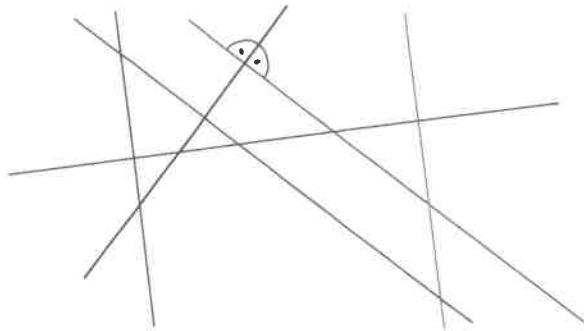


# Lernaufgaben für den Distanzunterricht am 1. März 2024


## Klasse 4b

Fach	Aufgabe
Mathematik	• Grundkonstruktionen Lb. S. 57 Nr. 1, 2 mündlich Nr. 3 b, Nr. 4 • Ab. S. 43 Nr. 1-3 (FuV)
Sport	
Kunst	gestalte eine Frühlingsoase
Sachunterricht	Die Lebensräume - zu jedem LR Stichpunkte aufschreiben LB, S. 39-41
Deutsch	- 5min Trainingsluft S. 39 & S. 40

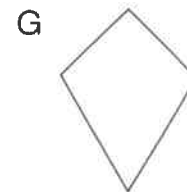
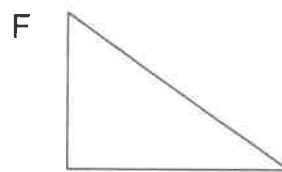

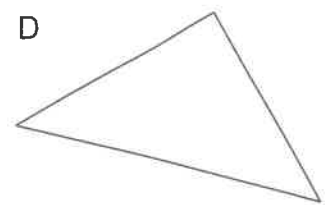
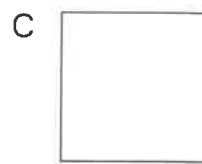
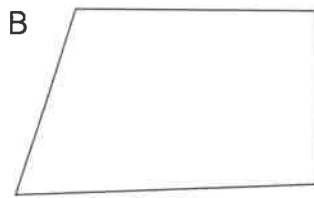
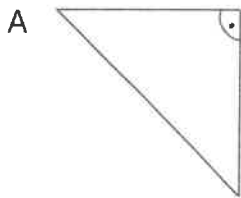
1 Welche Geraden stehen senkrecht aufeinander? Prüfe mit dem Geodreieck. Kennzeichne die rechten Winkel.



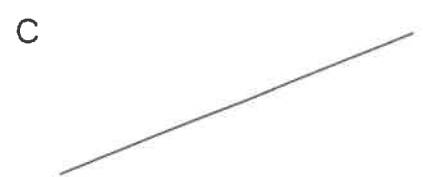
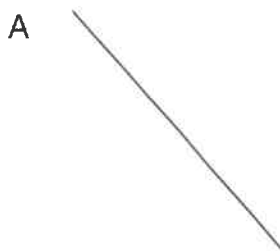
2 Zeichne zu jeder Geraden jeweils an den Punkten senkrechte Geraden. Kennzeichne die rechten Winkel.



3 a) Kennzeichne die rechten Winkel.  
b) Färbe die senkrecht aufeinanderstehenden Seiten grün.



4 Zeichne zu den Geraden jeweils zwei parallele Geraden im Abstand von 1 cm.



5 Zeichne die Rechtecke mit dem Geodreieck fertig.

